

3 класПрізвище _____
Ім'я _____**Варіант 1**

Діагностична робота

Русь-Україна за правління перших князів

Після перевірки постав знак «+» у сонечку, якщо ти правильно виконав/виконала завдання.

Познач правильну відповідь.

- Сусіди давніх слов'ян на півночі.
А Візантіяці; **Б** хозари; **В** нормани.
- Постійне військо, воїни якого також були радниками князя.
А Народне ополчення;
Б князівська дружина;
В вільна дружина.
- Князь, який об'єднав два центри східнослов'янських земель (Київ і Новгород) та заснував державу Русь-Україну.
А Ігор; **Б** Аскольд; **В** Олег.
- Батько князя Ігоря.
А Рюрик; **Б** Олег; **В** Аскольд.
- Ім'я князя, який загинув від рук повсталих деревлян.
А Аскольд; **Б** Ігор; **В** Святослав.
- Хто з київських правителів замість військових походів віддавав перевагу дипломатичним відносинам з іншими країнами?
А Олег; **Б** Ігор;
Б Святослав; **Г** Ольга.
- Які кочові племена оточили Київ за відсутності князя Святослава?
А Половці; **Б** печеніги; **В** хозари.



8. Про кого йдеться в літописі: «І охрестив її cesар (імператор Візантії)»?

А Про Аскольда;

В про Ольгу;

Б про Олега;

Г про Святослава.



9. Про кого слова: «Це чистий запорожець на київському престолі»?

А Про Олега;

Б про Ігоря;

В про Святослава.



Установи відповідність.

1 Полюддя

А Людина, яка вірить у багатьох богів та сили природи, поклоняється їм

2 Язичник

Б Збирання князем із дружиною або його представниками данини з підлеглого населення

3 Поляни

В Річка, біля якої збудовано місто Київ

4 Дніпро

Г Східнослов'янський племінний союз



*Упізнай зображення.
Познач, на честь кого зведено пам'ятник.*

А Князя Ігоря;

Б князя Святослава.



3 класПрізвище _____
Ім'я _____**Варіант 1**

Діагностична робота

Фізика, хімія

Після перевірки постав знак «+» у сонечку, якщо ти правильно виконав/виконала завдання.

Познач правильну відповідь.

1. Пристрій, усередині якого позитивні та негативні заряди постійно розділяються й накопичуються на його металевих кінцях (полюсах).

- А** Гальванічний елемент;
- Б** джерело електричного струму;
- В** електрометр.



2. Найпростіше електричне коло складається зі з'єднаних провідниками в певному порядку джерела електричного струму, споживачів та...

- А** металевого дроту;
- Б** магніту;
- В** вимикача.



3. Згідно із законом збереження енергії: енергія...

- А** накопичується та зберігається в певних місцях;
- Б** перетворюється з одного виду на інший;
- В** з'являється під час виконання роботи.



4. Пристрій, у якому світлова енергія (енергія Сонця) перетворюється на електричну.

- А** Вітрогенератор;
- Б** сонячний колектор;
- В** сонячна батарея.



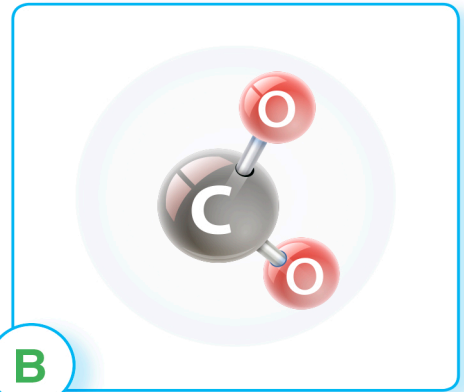
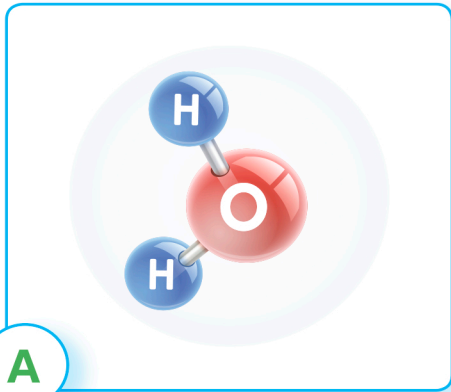
Установи відповідність.



- 1 Перетворює енергію рухо-
мої води на електричну
- 2 Перетворює теплову енергію,
що отримують під час поділу
атомних ядер, на електричну

- А** Атомна
електростанція
- Б** Гідроелектростанція

*Познач модель молекули
вуглекислого газу.*



Устав пропущене в будиночку хімічних елементів.



БУДИНОЧОК ХІМІЧНИХ ЕЛЕМЕНТІВ

H ¹	БУДИНОЧОК ХІМІЧНИХ ЕЛЕМЕНТІВ						He ²
Li ³	Be ⁴	B ⁵	C ⁶	N ⁷	___ ⁸	F ⁹	___ ¹⁰

*Опиши, що слід робити задля
збереження тепла всередині будинку.*



1. _____

2. _____

3 клас

 Прізвище _____
 Ім'я _____

Варіант 1

Діагностична робота

Кіровоградська й Черкаська області

Після перевірки постав знак «+» у сонечку, якщо ти правильно виконав/виконала завдання.

Познач правильну відповідь.

1. Буре вугілля — це ... корисна копалина.
A рідка паливна; **B** тверда паливна; **B** рудна.
2. Заглибина на земній поверхні з вузьким дном і крутими схилами.
A Балка; **B** пагорб; **B** яр.
3. Чернеча (Тарасова) гора розташована в місті...
A Черкаси; **B** Канів; **B** Умань.
4. Річка Рось — притока...
A Південного Бугу; **B** Дунаю; **B** Дніпра.
5. Природне угруповання, де рослини ростуть «ярусами».
A Ліс; **B** лука; **B** річка.



Познач герб Черкаської області.



Установи відповідність.

- | | | |
|---|---|--|
| <ol style="list-style-type: none"> 1 Дендропарк «Софіївка» 2 Музей Марка Кропивницького | A Кіровоградська область

B Черкаська область | |
|---|---|--|

Упиши номери областей
у відповідні кружечки на карті.



Умовні позначення

- 1 — Черкаська область
- 2 — Миколаївська область
- 3 — Кіровоградська область
- 4 — Херсонська область

Підкресли назви корисних копалин,
на які багата Кіровоградська область.



Графіт, нафта, буре вугілля, уранові руди, залізні руди.

Охарактеризуй
область за планом.



Назва області	Кіровоградська
Обласний центр	_____
У якій частині України розташована	_____
Чи має вихід до морів (якщо так, до яких саме)	_____
Рельєф	_____
Головні річки	_____

3 клас

Прізвище _____
Ім'я _____

Варіант 1

Діагностична робота

Організм людини

Після перевірки постав знак «+» у сонечку, якщо ти правильно виконав/виконала завдання.

Познач правильну відповідь.

1. Яке із зазначених умінь властиве тільки людині?

- А** Добування їжі;
- Б** мислення;
- В** піклування про потомство.



2. Сукупність кісток людини, з'єднаних між собою.

- А** Хребет;
- Б** скелет;
- В** постава.



3. Великі кровоносні судини.

- А** Артерії;
- Б** капіляри;
- В** бронхи.



4. Орган дотику.

- А** Язик;
- Б** ніс;
- В** шкіра.



5. Сигнал, що сприймає орган дотику.

- А** Смак;
- Б** біль;
- В** запах.

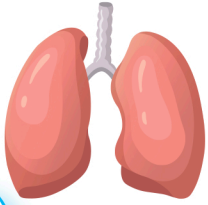


Установи відповідність.

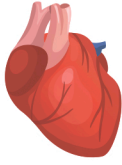
- | | |
|--------------------------------|---|
| 1 Кровоносна система | А Забезпечує перетворення їжі на поживні речовини |
| 2 Опорно-рухова система | Б Забезпечує рух крові |
| 3 Травна система | В Забезпечує опору й рух тіла, захищає внутрішні органи від пошкоджень |



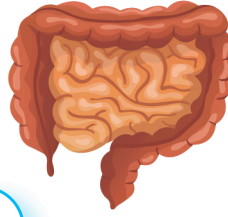
Обери зображення органа
кровоносної системи людини.



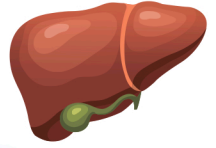
А



Б



В



Г

Укажи стрілочками розташування органів
травлення в тілі людини.

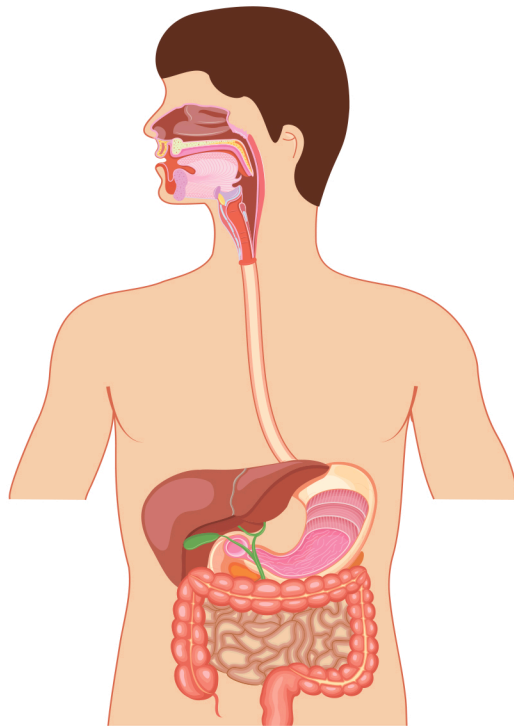


Ротова
порожнина

Глотка

Печінка

Товста
кишка



Стравохід

Шлунок

Тонка кишка

Укажи стрілочками шлях повітря
в тілі людини.



НОСОГЛОТКА

ТРАХЕЯ

БРОНХИ

НОСОВА
ПОРОЖНИНА

ГОРТАНЬ

ЛЕГЕНІ